

Решить

Муза

Андреев

Старшая возрастная группа
10 - 11 класс

ТЕОРЕТИЧЕСКИЙ ТУР

Тестовые задания открытого типа

Задание 1. Какими знаниями и умениями должен обладать человек оказавшись один на один с природой, чтобы выжить и дойти к людям? Ответ занесите в таблицу

④

+	должен обладать навыками-
+	треними, умениями ориентир-
+	ваться, умениями как
+	разводить костер, как до-
+	бывать пищу, какую пищу
+	можно есть, как готовить

+ и фильтровать воду, как и чем готовить
сильной бедности, как вести себя с животными

Оценка задания. Максимальная оценка за правильно выполненное задание - 6 баллов, при этом:

- за каждое правильно указанное смысловое значение начисляется по 1 баллу;
- при отсутствии правильных ответов баллы не начисляются

Задание 2. Пешеход так же, как и водитель, является участником дорожного движения, его поведение на дороге довольно подробно регламентируется. Внимательно прочитайте задание и ответьте на поставленные вопросы. Ответ занесите в таблицу

За создание явных помех в движении других участников наказание может быть в виде?

штраф, выговор

За переход дороги в неполюженном месте, если есть последствия в виде причинения телесных повреждений здоровью в легкой степени наказание?

штраф, выплата фи-
зической и морального
ущерба

За нарушение любых правил дорожного движения (в том числе и относящихся к переходу через дорогу в неполюженном месте) пешеходу могут?

штраф, получить
травмы разной
тяжести

Оценка задания. Максимальная оценка за правильно выполненное задание – 3 балла, при этом:

- за каждый правильный ответ начисляется по 1 баллу;
- при отсутствии правильных ответов баллы не начисляются

Задание 3. В случае чрезвычайной ситуации техногенного характера для защиты населения проводится ряд специальных мероприятий. Перечислите эти мероприятия, ответ занесите в таблицу

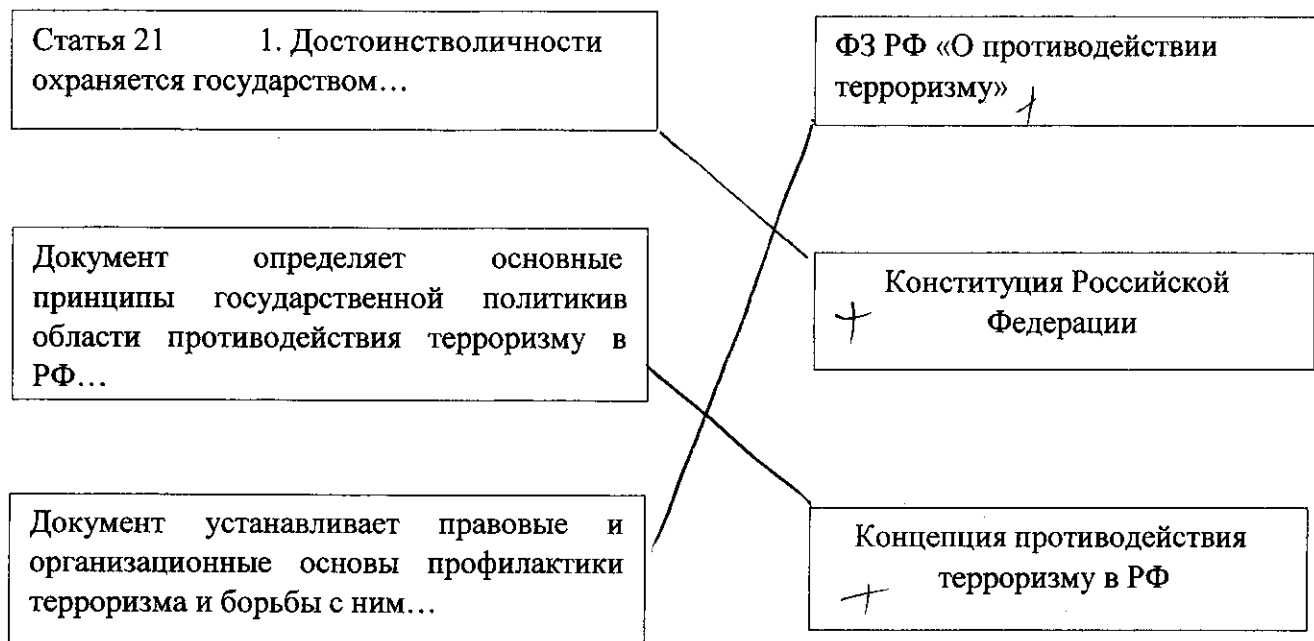
эвакуация, оповещение, обеспечение
обучение и подготовка населения, обеспе-
чение едой и водой, помехозащиты

3

Оценка задания. Максимальная оценка за правильно выполненное задание – 4 балла, при этом:

- за каждое правильно указанное смысловое значение начисляется по 1 баллу;
- при отсутствии правильных ответов баллы не начисляются

Задание 4. Перед вами положения из нормативно-правовых актов. Укажите стрелками каким нормативно-правовым документам они соответствуют



3

Оценка задания. Максимальная оценка за правильно выполненное задание – 3 балла, при этом:

- за каждый правильный ответ начисляется по 1 баллу;
- при отсутствии правильных ответов баллы не начисляются

Задание 5. Перед вами фотографии строев. Определите их вид. Ответ занесите в таблицу



колонна —



шеренга —

Оценка задания. Максимальная оценка за правильно выполненное задание – 4 балла, при этом:

- за каждый правильный ответ начисляется по 2 балла;
- при отсутствии правильных ответов баллы не начисляются

Задание 6. Вспомните боевые свойства автомата Калашникова. Внимательно прочитайте вопросы и ответьте на них.

а. Какой огонь из автомата является основным, дайте ему характеристику? Основным является автоматический огонь, он ведется _____ и _____, а _____,

также _____

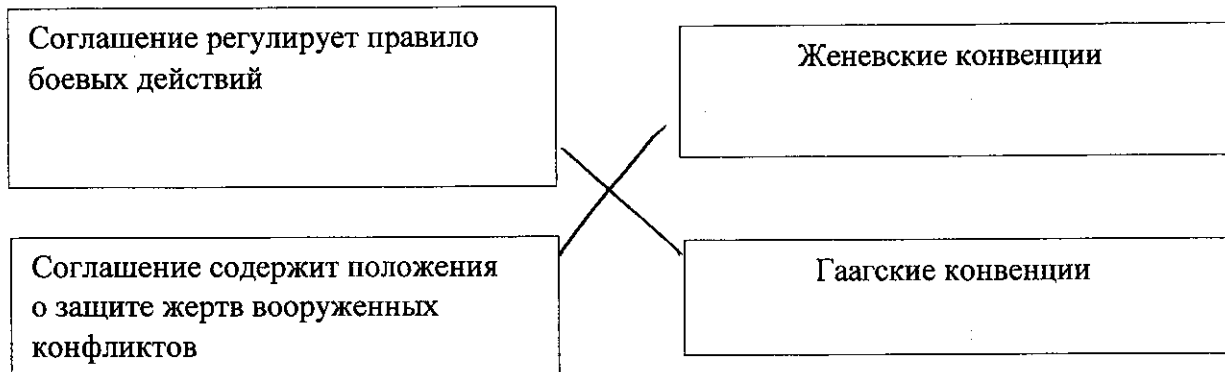
б. Какова емкость коробчатого магазина? — 45 —

в. На какое расстояние ведется наиболее действенный огонь из автомата? 15 м —

Оценка задания. Максимальная оценка за правильно выполненное задание – 10 баллов, при этом:

- за каждый правильный ответ начисляется по 2 балла;
- при отсутствии правильных ответов баллы не начисляются

Задание 7. Перед вами выдержки из групп соглашений в рамках «Права войны» — это международный договор, применяемый воюющими сторонами в ходе вооруженного конфликта. Какие из них соответствуют названиям существующих международных конвенций. Ответы укажите стрелками.



Оценка задания. Максимальная оценка за правильно выполненное задание – 4 балла, при этом:

- за каждый правильный ответ начисляется по 2 балла;
- при отсутствии правильных ответов баллы не начисляются

Задание 8. Перечислите полномочия Президента РФ на период военного времени. Ответ занесите в таблицу

4/5

утверждение военной доктрины
 утверждение военного положения
 при агрессии утверждает меры

Оценка задания. Максимальная оценка за правильно выполненное задание – 3 балла, при этом:

- за каждое правильно указанное смысловое значение начисляется по 1 баллу;
- при отсутствии правильных ответов баллы не начисляются

Задание 9. Как вы поведете себя, оказавшись в нижеперечисленных ситуациях? Ответ занесите в таблицу.

10

Вас захватило сильным течением и понесло в незнакомое место	буду стараться уловить себя камнями, стараться приплыть к берегу
Вы попали в водоворот	буду стараться уловить себя за что-нибудь
Вы оказались в водоеме с большим количеством водорослей, ноги спутываются стеблями растений	попытаюсь отплыть от этого водоема, рывками буду плыть,

Оценка задания. Максимальная оценка за правильно выполненное задание – 3 балла, при этом:

- за каждое правильно указанное смысловое значение начисляется по 1 баллу;
- при отсутствии правильных ответов баллы не начисляются

Задание 10. Перечислите последствия курения для легких. Ответ занесите в таблицу.

20

неодороженность, рак легких,
затруднение дыхания, утра-
та подвижности,
почернение легких, отек
легких, разрывы и
разрывы, повреждение других
органов

Оценка задания. Максимальная оценка за правильно выполненное задание – 12 баллов, при этом:

- за каждое правильно указанное смысловое значение начисляется по 2 балла;
- при отсутствии правильных ответов баллы не начисляются

Задание 11. Семья, материнство, отцовство и детство в РФ находятся под защитой государства. Семейным кодексом РФ установлены условия и порядок вступления в брак. Внимательно прочитайте вопросы и ответьте на них, результат занесите в таблицу

а. Что необходимо для заключения брака?

согласие и желание с двух сторон, паспорт, достижение совершеннолетия, справка о дееспособности,
--

б. Парень и девушка изъявили желание заключить брак, но им только 16 лет. Что им необходимо сделать, чтобы реализовать свою мечту?

Получить согласие родителей с обеих сторон, родить ребенка, завершить

в. если один из супругов осужден сроком на 2 года, можно ли в этом случае расторгнуть брак в органе записи актов гражданского состояния?

20

можно

Оценка задания. Максимальная оценка за правильно выполненное задание – 10 баллов, при этом:

- за каждое правильно указанное смысловое значение начисляется по 2 балла;
- при отсутствии правильных ответов баллы не начисляются

Задание 12. Гражданский противогаз ГП-7 на сегодня является самым совершенным и наиболее надёжным средством защиты. Прочитайте вопросы и ответьте на них.

А. В течении какого времени противогаз защищает органы дыхания от паров ОВ типа зарин, хлорциан?

1,5 час —

Б. В течении какого времени противогаз защищает органы дыхания от капель ОВ кожно-разрывного действия?

3 часа —

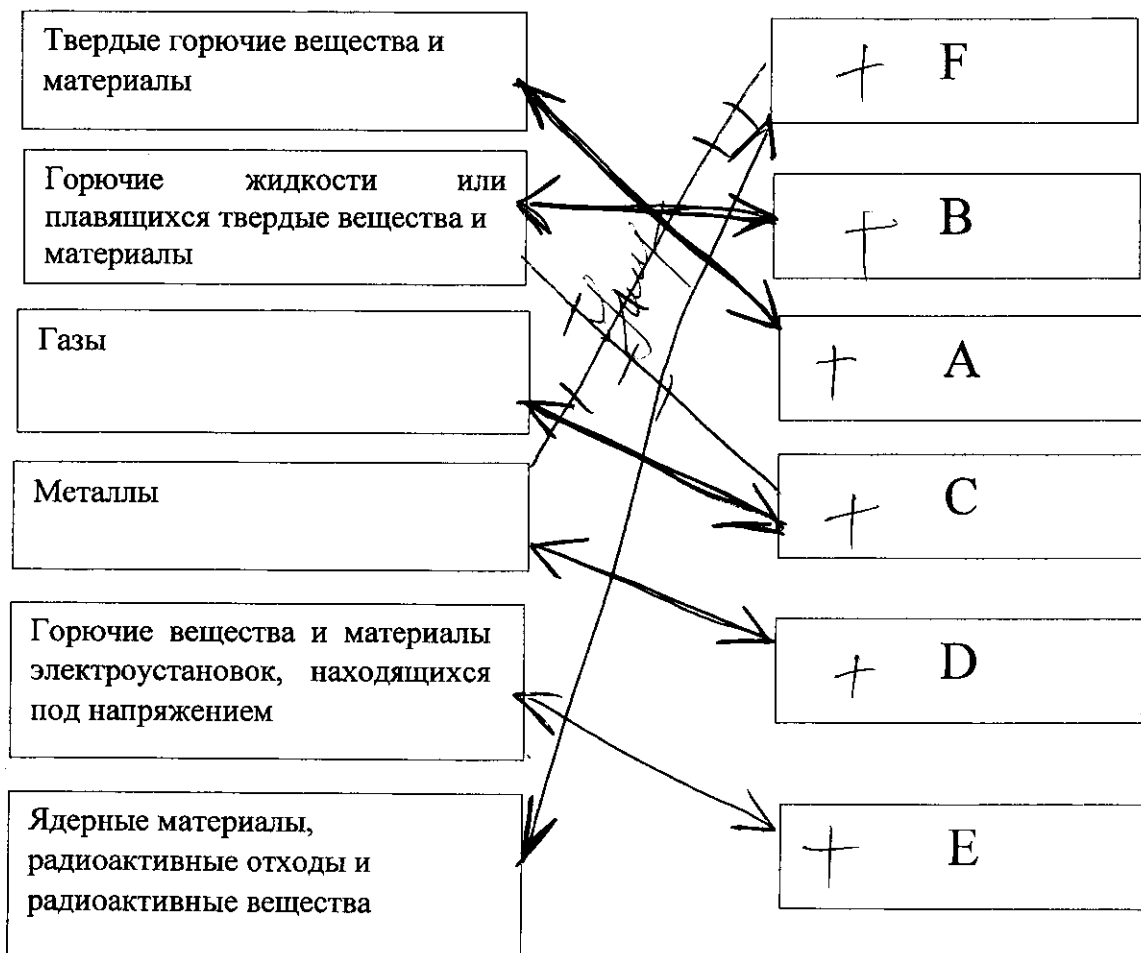
В. Для какого возраста предназначен противогаз типа ПДФ-Ш?

детей —

Оценка задания. Максимальная оценка за правильно выполненное задание – 12 баллов, при этом:

- за каждый правильный ответ начисляется по 4 балла;
- при отсутствии правильных ответов баллы не начисляются

Задание 13. Перед вами виды горючего материала. Укажите стрелками какому классу пожара они соответствуют?



125

Оценка задания. Максимальная оценка за правильно выполненное задание – 12 баллов, при этом:

- за каждый правильный ответ начисляется по 2 балла;
- при отсутствии правильных ответов баллы не начисляются

Задание 14. Использование белого флага – одна из старейших воинских традиций. С какой целью он может использоваться в переговорах с противной стороной? Ответ занесите в таблицу:

	с целью переговоров
	чтобы сдаться
	чтобы указать на серьезные
	травмы, с целью примирения

а

Оценка задания. Максимальная оценка за правильно выполненное задание – 4 балла, при этом:

- за каждое правильно указанное смысловое значение начисляется по 1 баллу;
- при отсутствии правильных ответов баллы не начисляются

Тестовые задания закрытого типа

№	Тестовые задания	Макс балл	Порядок оценки тестовых заданий
1	2	3	4
Определите один правильный ответ			
1.	На сколько раз возрастает длина тормозного пути автомобиля, движущегося по дороге в условиях гололеда? а. 5 раз; б. 10 раз; <input checked="" type="radio"/> в. 7 раз; г. 3 раза	2	За неправильный ответ выставляется – 0 баллов
2.	Основные права и свободы военнослужащих определены: <input checked="" type="radio"/> а. ФЗ «О воинской обязанности и военной службе»; б. ФЗ «О статусе военнослужащих»; в. ФЗ «Об обороне»	3	За неправильный ответ выставляется – 0 баллов
3.	Аварийно-спасательные службы РСЧС оснащаются всем необходимым для проведения неотложных работ в зоне ЧС в течении не менее: а. 3 суток; <input checked="" type="radio"/> б. 5 суток; в. 2 суток	2	За неправильный ответ выставляется – 0 баллов
4.	Кто осуществляет общее руководство группировкой сил и средств контртеррористической операции? а. глава региона, в котором проводится контртеррористическая операция; <input checked="" type="radio"/> б. руководитель территориального органа исполнительной власти в области обеспечения безопасности; в. руководитель контртеррористической операции	4	За неправильный ответ выставляется – 0 баллов
5.	При артериальном кровотечении наложенный жгут нельзя держать более: а. 30 мин.; <input checked="" type="radio"/> б. 1 часа; в. 45 мин.	2	За неправильный ответ выставляется – 0 баллов
6.	Караул назначается для: а. для поддержания внутреннего порядка; <input checked="" type="radio"/> б. своевременному принятию мер по предупреждению правонарушений; в. выполнения боевой задачи	3	За неправильный ответ выставляется – 0 баллов
7.	В соответствии с установленными нормами непрерывная продолжительность работы старшекласника за компьютером не должна превышать: а. 25 мин.; <input checked="" type="radio"/> б. 40 мин.;	3	За неправильный ответ выставляется – 0 баллов

	в. 20 мин.; г. 30 мин.		
8	Эмблема «красный крест на белом фоне» была официально признана в качестве отличительного знака обществ оказания помощи раненым и больным: <input type="radio"/> а. в 1863г.; <input type="radio"/> б. в 1870г.; <input type="radio"/> в. в 1876г.	2	За неправильный ответ выставляется – 0 баллов
9.	Подумайте и ответьте при каких условиях может существовать политический терроризм? а. при наличии бандформирований; б. при наличии больших групп религиозных экстремистов; <input checked="" type="radio"/> в. при поддержке общественного мнения	4	За неправильный ответ выставляется – 0 баллов
10.	В состав аптечки индивидуальной (АИ-2) входит пенал красного цвета в 6 таблетками антидота против ОВ. Как принимают эти таблетки в случае профилактики? а. по одной таблетки; <input checked="" type="radio"/> б. по две (утром и вечером); в. в зависимости от самочувствия	3	За неправильный ответ выставляется – 0 баллов
11.	Часового имеют право сменить или снять с поста: а. дежурный по части в присутствии командирароты; б. начальник караула; в. помощник начальника караула и разводящий, которому он подчинен	2	За неправильный ответ выставляется – 0 баллов
Определите правильную последовательность			
12.	Расположите воинские звания по убыванию а. контр-адмирал; б. генерал-лейтенант; в. полковник; г. капитан второго ранга	2	За неправильный ответ выставляется – 0 баллов
13.	Подгонка лицевой части противогаза ГП-7: а. назатыльник головного крепления должен прилегать к центру затылка; б. надеть маску и отрегулировать положение назатыльника передвижкой пряжек лобовых тесем; в. височные и затылочные тесьмы ослабить так, чтобы маска свободно надевалась па голову; г. лобовые тесьмы максимально удлинить путем передвижения пряжек; д. подтянуть височные и затылочные тесьмы, не затягивая их слишком туго; е. проверить лицевую часть на герметичность	2	За неправильный ответ выставляется – 0 баллов
Определите все правильные ответы			
14.	Какие последствия может вызывать паводок? а. загрязнение почвенных вод удобрениями и иными химикатами; б. отравление колодцев; в. прорывы плотин; г. возрождение инфекций; д. поражение пастбищ		За каждый правильный ответ 1 балл. Если ответ неверный, баллы не выставляются

15.	Вспомните требования к обустройству кострового места в лесу: <input checked="" type="checkbox"/> а. площадка для костра должна быть на защищённом от ветра безопасном месте; б. костровое место необходимо освободить от дёрна; в. по возможности расположить костер на каменистых россыпях; г. использовать для кострового места вырубку с сучьями и ветками		За каждый правильный ответ 1 балл. Если ответ неверный, баллы не выставляются
16.	Назовите признаки отравления аммиаком: а. учащение сердцебиения и пульса; б. рвота; в. возбуждение; г. резкая боль в груди; д. судороги; е. удушье; ж. резь в глазах; з. слезотечение; и. насморк; к. кашель; л. покраснение и зуд кожи		За каждый правильный ответ 1 балл. Если ответ неверный, баллы не выставляются
17.	Немалое место в индивидуальной системе здорового образа жизни отводится самоконтролю. Назовите субъективные показатели самоконтроля: <input checked="" type="checkbox"/> а. сон; б. частота сердечных сокращений; <input checked="" type="checkbox"/> в. аппетит; г. тревожное состояние		За каждый правильный ответ 1 балл. Если ответ неверный, баллы не выставляются
18.	Лицам, участвующим в экстремистской деятельности по решению суда, может быть ограничен доступ к: <input checked="" type="checkbox"/> а. службе в ВС РФ; б. работе в образовательных учреждениях; в. занятию охранной деятельностью; <input checked="" type="checkbox"/> г. службе в правоохранительных органах		За каждый правильный ответ 1 балл. Если ответ неверный, баллы не выставляются
Найди ошибку в примере			
19.	Водителю скутера разрешается: а. ехать по краю проезжей полосы, если дорожки нет; б. ездить с правами любой категории; в. перевозить детей до 6 лет в специальных креслах	2	Если ответ неверный, баллы не выставляются
20.	Согласно положениям Военной доктрины РФ современная война может быть: <input checked="" type="checkbox"/> а. локальной; <input checked="" type="checkbox"/> б. ядерной; в. региональной; <input checked="" type="checkbox"/> г. крупномасштабной	2	Если ответ неверный, баллы не выставляются
	Итого:	60	Общий итоговый балл определяется суммой баллов, полученных за каждое тестовое задание

Матрица ответов на тестовые задания теоретического тура

Номер теста	Верный ответ	Номер теста	Верный ответ	Номер теста	Верный ответ
1	в +	8	а +	15	а 2
2	д -	9	в +	16	а б в г д 4б.
3	д -	10	в -	17	а б в г д 2б.
4	г -	11	в -	18	а б в г д 1б.
5	а +	12	в а -	19	в -
6	г -	13	е в з а г +	20	в +
7	г -	14	а в г -		

+ 2б.

$$3 + 2 + 2 + 4 + 2 + 1 + 4 + 2 + 1 + 2 = 23$$