


Код/шифр участника 9 - Г-9-15

**Всероссийская олимпиада школьников по географии
муниципальный этап 2022-2023 учебный год
9 класс**

ЛИСТ ОТВЕТОВ

Участник олимпиады	
Фамилия	<i>Величко</i>
Имя	<i>Терман</i>
Отчество	<i>Тавнович</i>

№ задания	Баллы					Тесты
	1	2	3	4	5	
Количество баллов	<i>1,5</i>	<i>5</i>	<i>5</i>	<i>0</i>	<i>6</i>	<i>23,5</i>
Подпись члена жюри	<i>SP- hi</i>	<i>SP- hi</i>	<i>SP- hi</i>	<i>SP- hi</i>	<i>SP- hi</i>	<i>SP- hi</i>
Сумма баллов и подпись председателя	<i>860.</i>					<i>415</i> 

**Всероссийская олимпиада школьников по географии
муниципальный этап 2022-2023 учебный год**

9 класс

Бланк ответов учащегося для заданий тестового тура

№	Правильный ответ	
1.	Б	0
2.	Г	0
3.	Б	1
4.	1-А; 2-Г; 3-Б; 4-В	1
5.	А	1
6.	Г	1
7.	Б	1
8.	Б	1
9.	Б	1
10.	Б	1
11.	Б	1
12.	А	1
13.	Б	1
14.	А	1
15.	Г	1
16.	А	1
17.	Б	1
18.	Г	1
19.	Г	0
20.	А	0
21.	Б Б	1
22.	Б	1
23.	Шовенское и Кёржале моря, Жезкентский урочище	1,5
24.	1-Г; 2-Б; 3-Г; 4-А; 5-Б; 6-Ж; 7-Б; 8-Г; 9-Д; 10-Б	3
25.	А	1

1,5
3
23,5


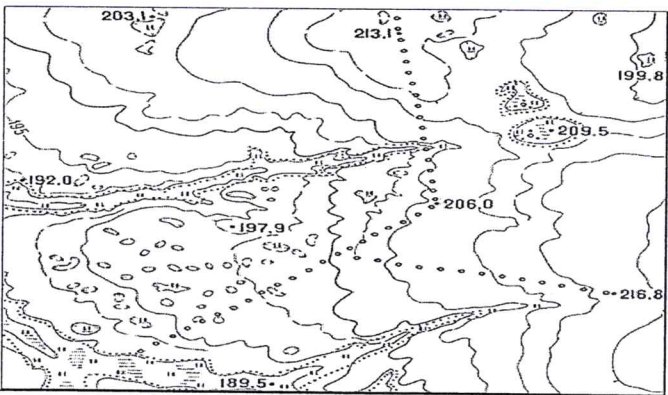
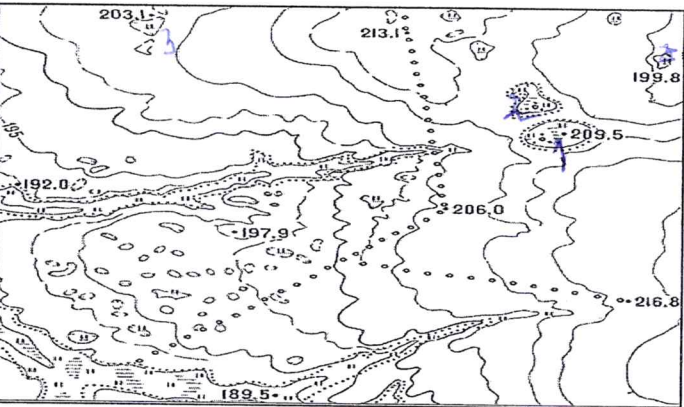
Код/шифр участника 9 - Г-9-15

Задача № 5

№	Вопрос	Ответ
1.	Назовите этот регион России	Республика Адыгея 1
2.	Как называется крупнейшая река, протекающая через территорию региона?	Волга 1
3.	Какой веры придерживаются местные жители?	Буддизм 1
4.	В каких еще субъектах России значительная доля населения её исповедует?	Республика Адыгея, Республика Бурятия, Республика Тыва 1,5
5.	О каком виде спорта идет речь?	0
6.	Как называется старейший самый южный российский город на берегу этого водного объекта?	Малая 0

	Точка зрения 1	Точка зрения 2
Вид водного объекта	Озеро 0,5	Море 0,5
Аргументы	<ul style="list-style-type: none"> Данный объект никак не связан с системой мирового океана. 0,5	<ul style="list-style-type: none"> По размерам данный объект сопоставим со многими морями. 0
	<ul style="list-style-type: none"> Данный объект образован остатками ледника, как и многие озера 0	<ul style="list-style-type: none"> По солености данный объект сопоставим со многими морями 0

Задача № 4

	Ответ
1	<u>Пундра</u> 0
2	Общее <u>Выветривание</u> 0
	
	
3	Процессы _____ _____ _____ _____ _____
4	

0

Код/шифр участника 9 - Г-9-15

Задача № 2

№	Вопрос	Ответ	
1.	О каком острове идет речь?	о. Ява Ява	1
2.	В составе какого архипелага находится?	Индонезийский (ост. Индонезийский) ост. - Индонезийский	0
3.	Назовите его крупнейший город	Смадарама	1
4.	Назовите три главных народов		0
5.	Назовите бывшую европейскую метрополию.	Недербандо	0,5
6.	В состав какого государства входит остров?	Индонезия	1
7.	В какой природной зоне находится остров?	Экваториальные и субтропические леса	0
8.	Что является традиционной основой хозяйства большинства жителей острова?		0
9.	Подпишите название острова, города и страны, в состав которой входит остров.	На контурной карте приложения	1,5

Задача №3

Космический снимок	Номер условного знака /название	
А	2 / двухколесное шоссе	1
		0
Б	4 / поле	1
		0
В	5 / виноградник	1
		0
Г	7 / веруан	1
		1

Теоретический тур

Задача № 1

№	Вопрос	Ответ
1.	Как называется описанный материк? Как переводится его название?	Австралия Австралия (Южная Земля) 0
2.	Почему на материк наблюдаются максимальные среднегодовые температуры?	Ледяная часть материка расположена вблизи экватора, большая часть рельефа представлена пустынями, на материке отсутствуют реки 0
3.	Васко да Гама (1497-1498) ^{Круглые земли} Португалия Абель Тасман Зидерманс 0	
4.	Расстояние с севера на юг составляет	4000 км 0
5.	Наибольшее расстояние с запада на восток составляет	10000 км 0
6.	На карте изображены полуострова и острова, заливы и проливы	На контурной карте приложения 0,5
7.	1 тектоническая особенность	Расположен только на одной тектонической плите 0
8.	2 природная особенность	Большая часть рельефа представлена пустынями 1
9.	3 политическая особенность	На материке расположено самое большое количество стран в сравнении с другими 0

1,55

Г-9-15

ФИЗИЧЕСКАЯ КАРТА МИРА

