

Код/шифр участника 9 - Г-9-1

**Всероссийская олимпиада школьников по географии
муниципальный этап 2022-2023 учебный год
9 класс**

ЛИСТ ОТВЕТОВ

Участник олимпиады	
Фамилия	Зайцев
Имя	Богдан
Отчество	Николаевич

№ задания	Баллы					Тесты
	1	2	3	4	5	
Количество баллов	4	5,5	4	2	7	26,5
Подпись члена жюри						
Сумма баллов и подпись председателя	498.					

Код/шифр участника 9 - t-g-1²

**Всероссийская олимпиада школьников по географии
муниципальный этап 2022-2023 учебный год
9 класс**

Бланк ответов учащегося для заданий тестового тура

№	Правильный ответ	
1.	A	1
2.	B	1
3.	B	0
4.	1A 2Г 3Б 4B	1
5.	B	0
6.	Г	1
7.	Б	0
8.	Б	1
9.	Б	1
10.	B	1
11.	B	1
12.	A	1
13.	Б	1
14.	A	1
15.	Г	1
16.	A	1
17.	B	1
18.	Г	1
19.	B	1
20.	Г	1
21.	B	1
22.	B	1
23.	Моря - Мёртвое и Азовское; Керченский пролив	1,5
24.	1К 2И 3B 4A 5З 6Ж 7Ф 8Г 9Е 10.	5
25.	A	1

26,56.

Код/шифр участника 9 - _____

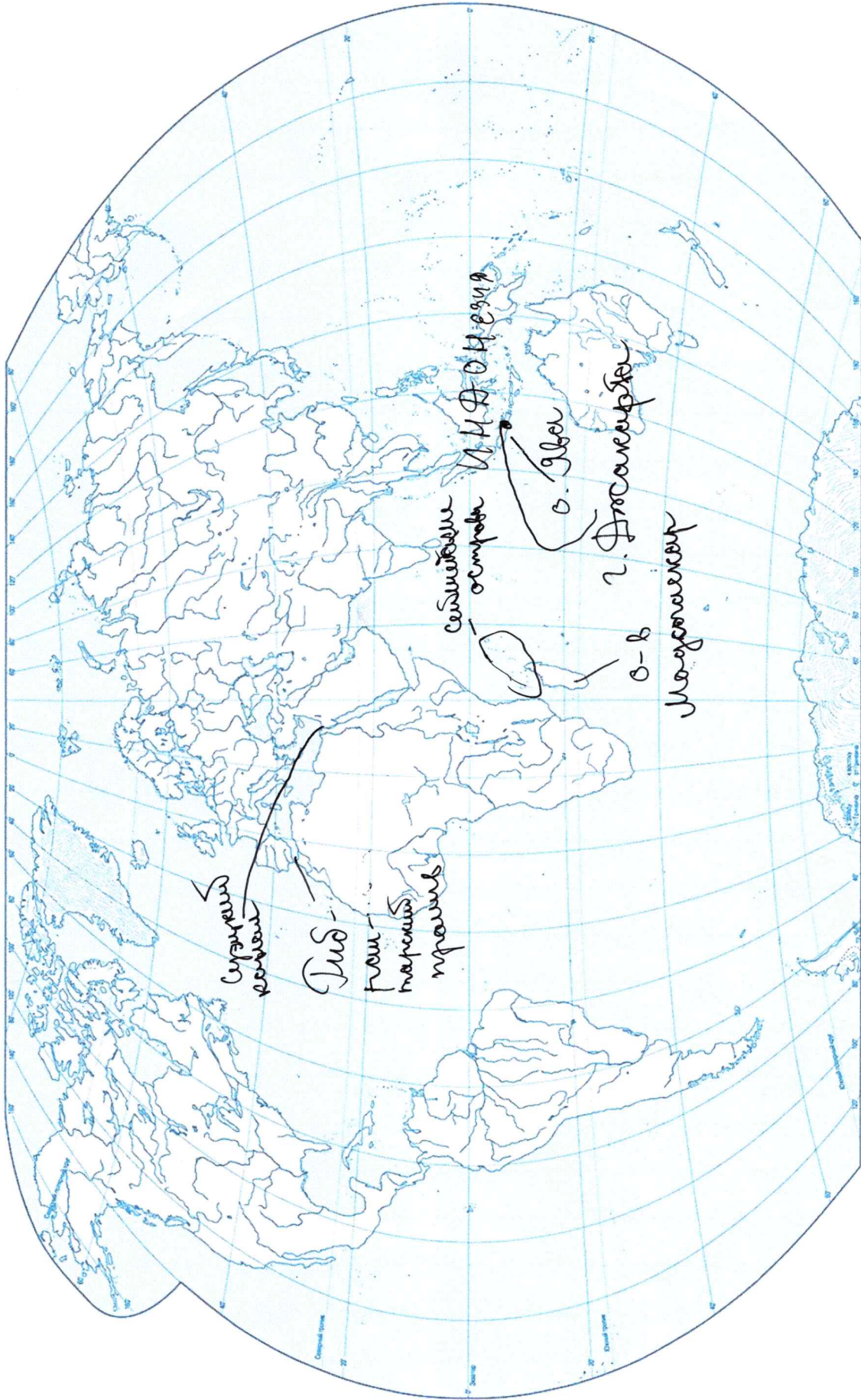
Задача № 5

№	Вопрос	Ответ
1.	Назовите этот регион России	Республика Калмыкия 1
2.	Как называется крупнейшая река, протекающая через территорию региона?	Волга 1
3.	Какой веры придерживаются местные жители?	Буддизм 1
4.	В каких еще субъектах России значительная доля населения её исповедует?	Республика Тыва, Республика Бурятия. 1
5.	О каком виде спорта идет речь?	Теннис 0
6.	Как называется старейший самый южный российский город на берегу этого водного объекта?	Дербент 1

	Точка зрения 1	Точка зрения 2
Вид водного объекта	Море 0,5	Озеро 0,5
Аргументы	<ul style="list-style-type: none"> Каспий имеет огромные размеры, вода в нём соленая 0,5 	<ul style="list-style-type: none"> Каспий не имеет выхода в мировой океан. 0,5
	<ul style="list-style-type: none"> Каспий расположен на тектонической платформе океанического происхождения 0 	<ul style="list-style-type: none"> Каспий не имеет постоянного береговой линии в некоторых участках (она нестабильна) 0


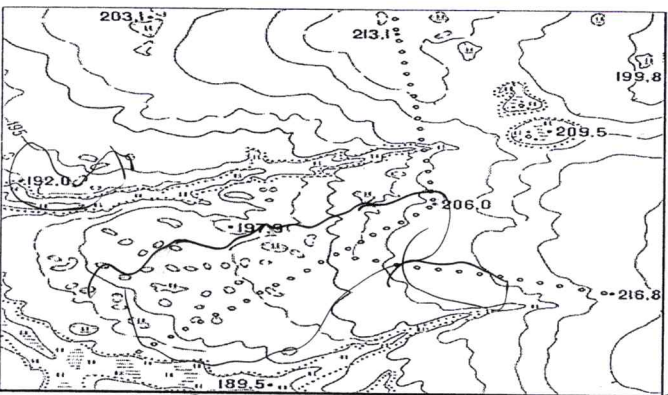
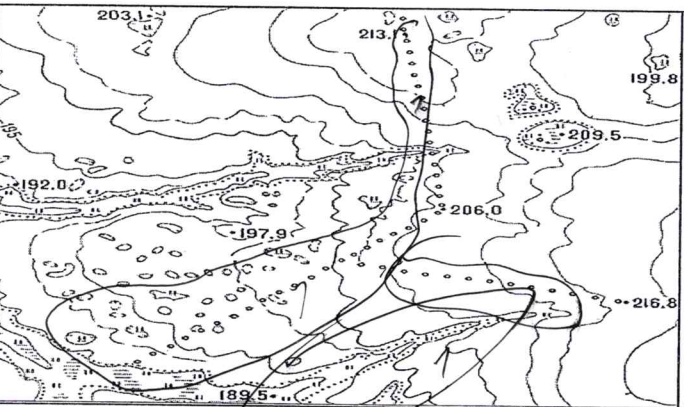
F-9-1

ФИЗИЧЕСКАЯ КАРТА МИРА



Код/шифр участника 9 - г-9-51

Задача № 4

	Ответ	
1	Смешанные леса	0
2	Общее задание ^{задание} почв и выветривание	0
		
		
3	Процессы для участка 25 ^{для участка 25} характерно задание ^{задание} выветривание почв задание ^{задание} выветривание почв	1
4		1

23

Код/шифр участника 9 - Г-9-1⁴
Задача № 2

№	Вопрос	Ответ
1.	О каком острове идет речь?	Остров Ява 1
2.	В составе какого архипелага находится?	Индонезийские острова 0
3.	Назовите его крупнейший город	Джакарта 1
4.	Назовите три главных народов	Джакарта 0
5.	Назовите бывшую европейскую метрополию.	Великобритания 0
6.	В состав какого государства входит остров?	Индонезия 1
7.	В какой природной зоне находится остров?	В экваториальной 1
8.	Что является традиционной основой хозяйства большинства жителей острова?	Сельское хозяйство 0
9.	Подпишите название острова, города и страны, в состав которой входит остров.	На контурной карте приложения 1,5

5,5

Задача №3

Космический снимок	Номер условного знака /название
А	2 автострада магистраль 1
Б	4 - дорожка между растениями, 1
В	6 - линия налива 0
Г	7 - железнодорожная магистраль 1

4,5

1
автострада
магистраль
дорожка
линия налива
железнодорожная магистраль

Теоретический тур

Задача № 1

№	Вопрос	Ответ
1.	Как называется описанный материк? Как переводится его название?	Африка (переводится как "прекрасная") 1
2.	Почему на материк наблюдаются максимальные среднегодовые температуры?	Материк пересекает Экватор и Тропики (Северный и Южный), поэтому ^{самый} ^{большой} ^{мер} ^{начало} 0
3.	Кто и когда из европейских мореплавателей впервые приплыл к его берегам? Представитель какой страны?	Васко да Гама (16 века); Португалия 1
4.	Расстояние с севера на юг составляет	≈ 10000 км 0
5.	Наибольшее расстояние с запада на восток составляет	≈ 68°; ≈ 7500 км 0
6.	На карте изображены полуострова и острова, заливы и проливы	На контурной карте приложения 1
7.	1 тектоническая особенность	Африка - древний материк - самая высокая точка - вулкан Килиманджаро. Имеются озера тектонического происхождения 0
8.	2 природная особенность	На материке обитает удивительные животные (африканские слоны, львы, жирафы, крокодилы и т.д.) 0
9.	3 политическая особенность	Многие Африканские страны получили независимость в XX веке. До этого они были колониями таких стран, как Франция, Великобритания, Италия и т.д. 1

Колонии таких стран, как Франция, Великобритания, Италия и т.д. 1