


Код/шифр участника 9 - Г-9-3

**Всероссийская олимпиада школьников по географии  
муниципальный этап 2022-2023 учебный год  
9 класс**

**ЛИСТ ОТВЕТОВ**

Участник олимпиады	
Фамилия	
Имя	
Отчество	

№ задания	Баллы					Тесты
	1	2	3	4	5	
Количество баллов	2	6	5	2	6+1	25,5
Подпись члена жюри	<i>ИИ-ИИ</i>	<i>ИИ-ИИ</i>	<i>ИИ-ИИ</i>	<i>ИИ-ИИ</i>	<i>ИИ-ИИ</i>	<i>ИИ-ИИ</i>
Сумма баллов и подпись председателя	47,50.					

Код/шифр участника 9 -

Р-9-3<sup>2</sup>

**Всероссийская олимпиада школьников по географии  
муниципальный этап 2022-2023 учебный год  
9 класс**

**Бланк ответов учащегося для заданий тестового тура**

№	Правильный ответ	
1.	А	1
2.	Б	1
3.	В	0
4.	1)-А; 2)-Г; 3)-Б; 4)-В	1
5.	А	1
6.	Г	1
7.	В	1
8.	Б	1
9.	Б	1
10.	В	1
11.	В	1
12.	А	1
13.	Б	1
14.	А	1
15.	Г	1
16.	А	1
17.	Б	1
18.	Г	1
19.	В	1
20.	Г	1
21.	Б	0
22.	Г	0
23.	Черное море; Азовское море; Черменский пролив	1,5
24.	1-К; 2-И; 3-В; 4-А; 5-З; 6-Ж; 7-Д; 8-Г; 9-Е; 10-Б	5
25.	Б	0

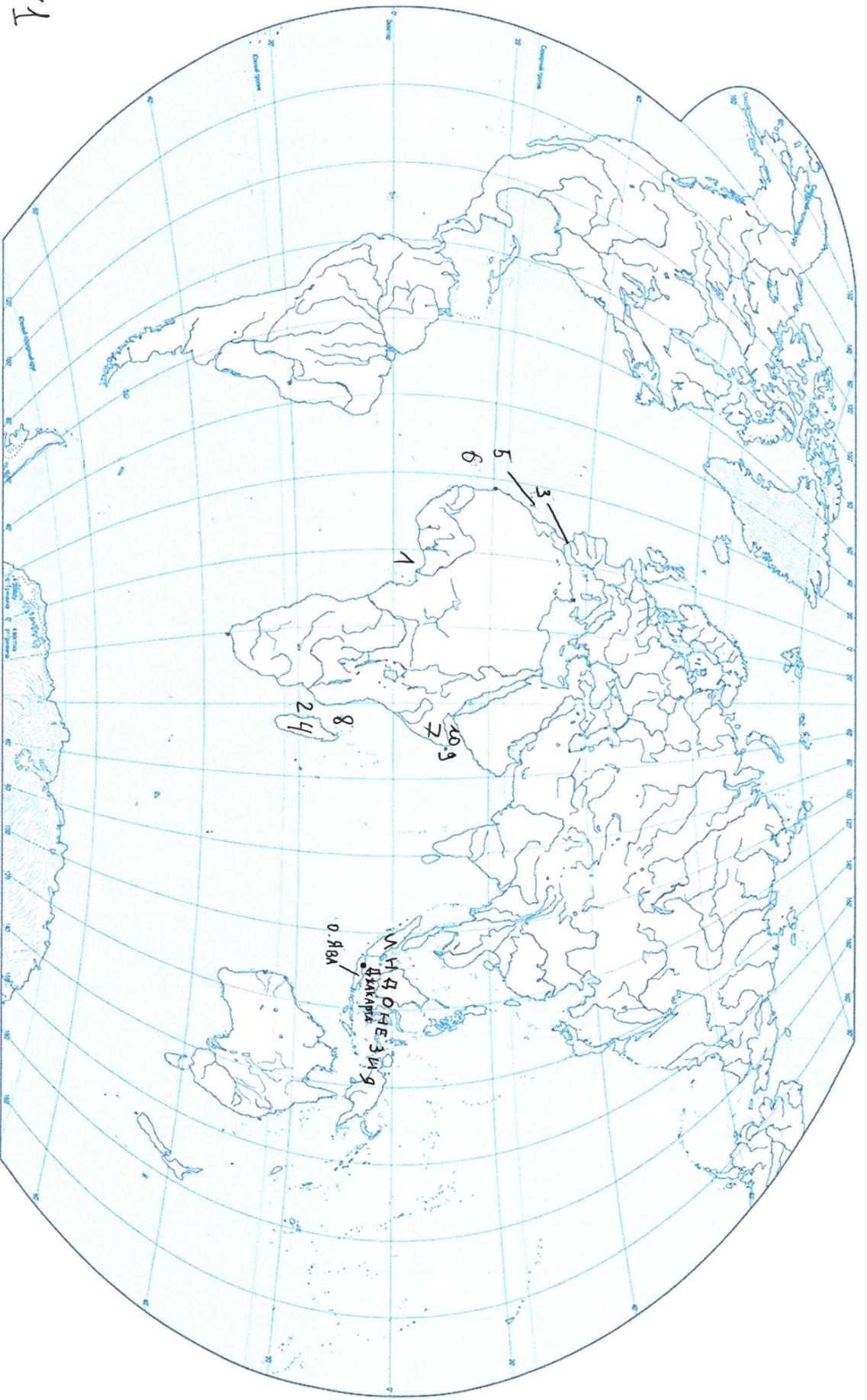
25,5

### Теоретический тур

#### Задача № 1

№	Вопрос	Ответ
1.	Как называется описанный материк? Как переводится его название?	Африка "Южный" <span style="float: right; color: red;">1</span>
2.	Почему на материк наблюдаются максимальные среднегодовые температуры?	В связи с нахождением материка на экваторе (у экватора). Следовательно, материк получает большее количество солнечной радиации.
3.	Кто и когда из европейских мореплавателей впервые приплыл к его берегам? Представитель какой страны?	Васко да Гама, XV век н.э. Угнетены, Португалии <span style="float: right; color: red;">1</span>
4.	Расстояние с севера на юг составляет	8347,5 км
5.	Наибольшее расстояние с запада на восток составляет	6262,5 км
6.	На карте изображены полуострова и острова, заливы и проливы	На контурной карте приложения
7.	1 тектоническая особенность	Территория Восточной Африки (Эфиопия) постепенно дрейфует в восточном направлении, отдаляясь от материка
8.	2 природная особенность	Огромное природное разнообразие: высокие пустыни, саванны, экваториальные влажные леса и переходная зона между ними. Разнообразие флоры и фауны
9.	3 политическая особенность	Разнообразие политических режимов: как авторитарных (Демократическая Республика Конго, Египет), так и установивших демократий (ЮАР, Намибия)

ФИЗИЧЕСКАЯ КАРТА МИРА



Задача №1

- 1- Платформенный рельеф
- 2- Горный рельеф
- 3- Гидрокарстовый рельеф
- 4- О. Влажные экватор
- 5- Каньонная эрозия
- 6 - степная зона
- 7 - Саванна
- 8 - Каньонная эрозия
- 9 - о. Кораллы
- 10 - степный рельеф

**Задача № 2**

№	Вопрос	Ответ	
1.	О каком острове идет речь?	Ява	1
2.	В составе какого архипелага находится?	Зондские острова	0
3.	Назовите его крупнейший город	Джанарта	1
4.	Назовите три главных народов	Индонезийцы, Сулу, Банту	0
5.	Назовите бывшую европейскую метрополию.	Нидерланды	0,5
6.	В состав какого государства входит остров?	Индонезия	1
7.	В какой природной зоне находится остров?	Экваториальная	1
8.	Что является традиционной основой хозяйства большинства жителей острова?	Земледелие	0
9.	Подпишите название острова, города и страны, в состав которой входит остров.	На контурной карте приложения	1,5

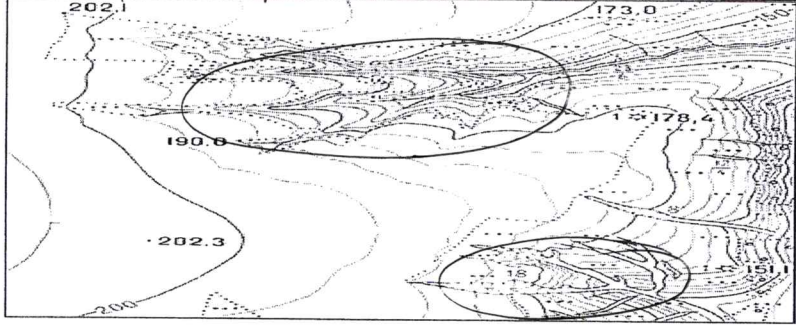
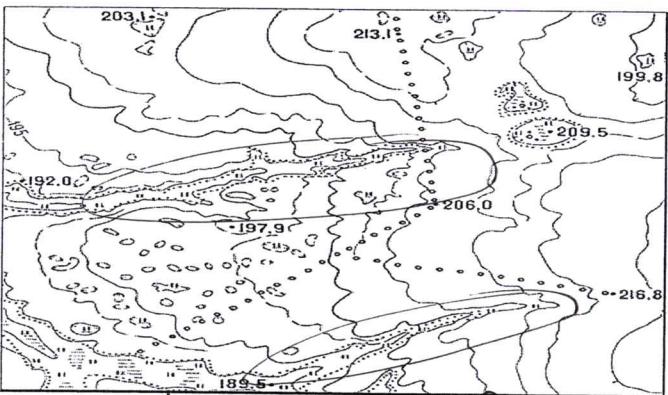
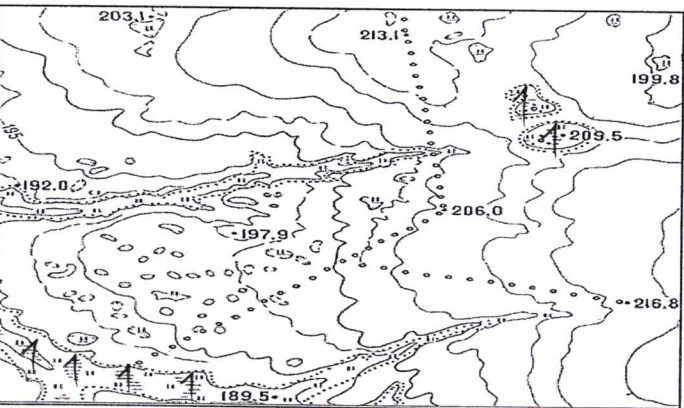
66.

**Задача №3**

Космический снимок	Номер условного знака /название	
А	2	1
	Автомобильная трасса	0
Б	3	0
	Вилоградники	1
В	5	1
	Террасы	0
Г	7	1
	Миниавтостоящий узел (вокзал)	1

56.

Задача № 4

	<p>Ответ</p>
1	<p>Тупик</p>
2	<p>Общее: Выветрившие</p>
	
	
3	<p>Процессы <del>выветривания</del> заболачивания <span style="float: right;">1</span></p>
	<p>_____</p> <p>_____</p> <p>_____</p> <p>_____</p>
4	<p>1- процессы заболачивания <span style="float: right;">1</span></p>
	

25.

Задача № 5

№	Вопрос	Ответ
1.	Назовите этот регион России	Республика Кашмир 1
2.	Как называется крупнейшая река, протекающая через территорию региона?	Вална 1
3.	Какой веры придерживаются местные жители?	Буддизм 1
4.	В каких еще субъектах России значительная доля населения её исповедует?	Республика Бурятия, Республика Тыва 3 1
5.	О каком виде спорта идет речь?	Шахматы 1
6.	Как называется старейший самый южный российский город на берегу этого водного объекта?	г. Дербент 1
Каспийское море (озеро)		

	Точка зрения 1	Точка зрения 2
Вид водного объекта	Море 0,5	Озеро 0,5
Аргументы	<ul style="list-style-type: none"> <li>• Наличие <sup>повышенное</sup> количества животных и растений, дающих пищу его от Мирового океана</li> </ul>	<ul style="list-style-type: none"> <li>• Защищенность от Мирового океана</li> </ul>
	<ul style="list-style-type: none"> <li>• Наличие характерных для моря видов животных и растений, солёность</li> </ul>	<ul style="list-style-type: none"> <li>• Постепенное опреснение объекта, наличие растений и животных, характерных для озёр</li> <li>• <del>Низкий уровень воды, что нехарактерно для моря</del></li> </ul>

• Нестабильность береговой линии

6,5

1,5