

Код/шифр участника 8- 12

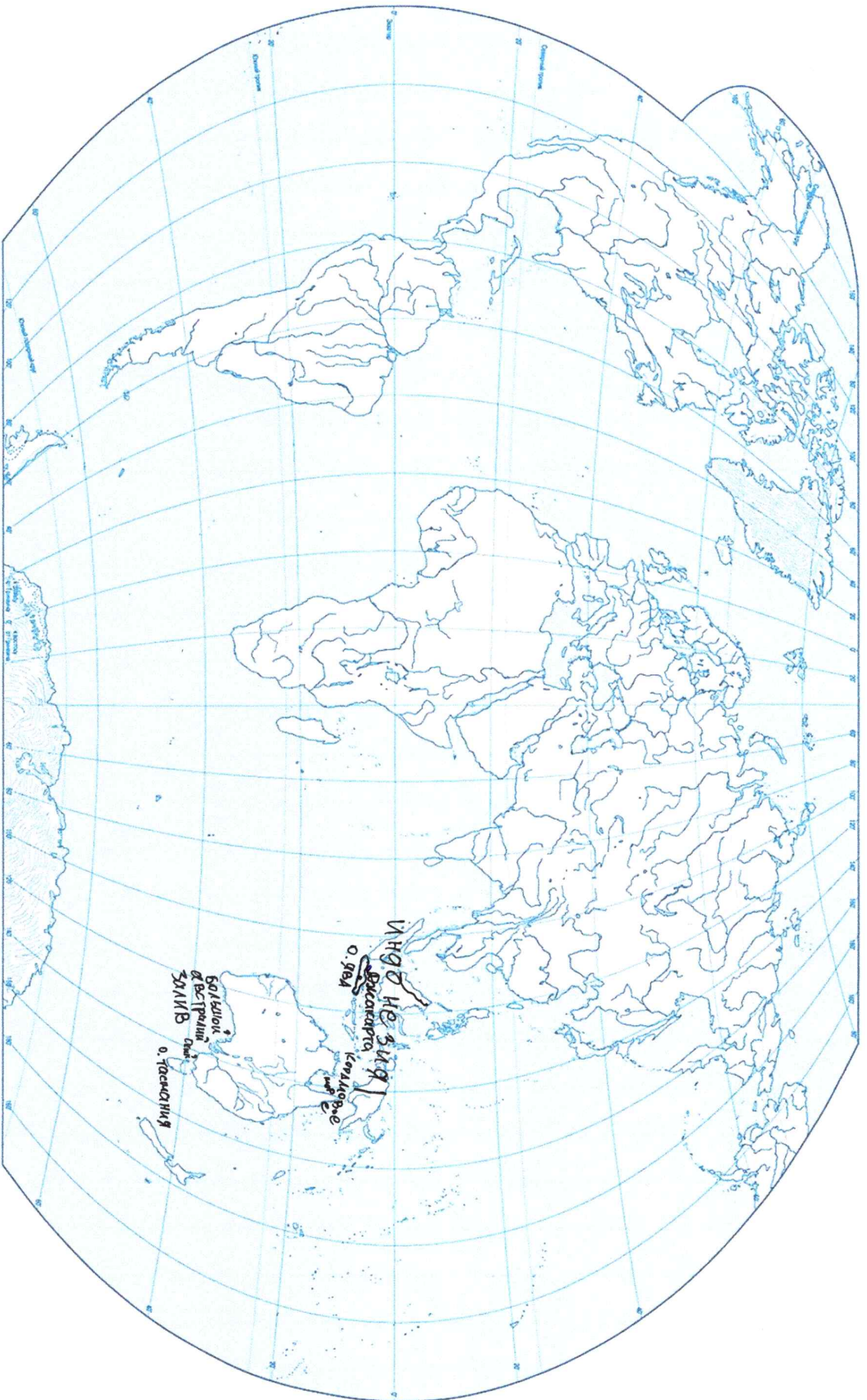
Всероссийская олимпиада школьников по географии  
муниципальный этап 2022-2023 учебный год  
8 класс

ЛИСТ ОТВЕТОВ

Участник олимпиады	
Фамилия	
Имя	
Отчество	

№ задания	Баллы				Тесты
	1	2	3	4	
Количество баллов	0	5,5	5	2	22,5
Подпись члена жюри	<i>Лет</i>	<i>Лет</i>	<i>Лет</i>	<i>Лет</i>	<i>Лет</i>
Сумма баллов и подпись председателя	35	<i>[подпись]</i>			

ФИЗИЧЕСКАЯ КАРТА МИРА



22,5 + 12,5

Код/шифр участника 8- Г-8-12 2

**Всероссийская олимпиада школьников по географии**  
**муниципальный этап 2022-2023 учебный год**  
**8 класс**

**Бланк ответов учащегося для заданий тестового тура**

№	Правильный ответ	
1.	A	—
2.	1-3 <sup>+</sup> ; 2-жс <sup>+</sup> ; 3-D <sup>+</sup> ; 4-E <sup>+</sup> ; 5-б <sup>+</sup> ; 6-Г <sup>+</sup> ; 7-A <sup>+</sup> ; 8-B <sup>+</sup>	4
3.	B	1
4.	Г	1
5.	Б	1
6.	B	1
7.	Б	—
8.	Б	1
9.	1-B <sup>+</sup> ; 2-Г <sup>+</sup> ; 3-Б <sup>+</sup> ; 4-A <sup>+</sup>	2
10.	ГABB	0,5
11.	A	—
12.	Б	1
13.	Б,В	—
14.	A	1
15.	A	1
16.	Г	1
17.	B	1
18.	В	—
19.	Б	—
20.	Г	1
21.	Г	1
22.	A-3; Б-4; B-1; Г-2	2
23.	B	1
24.	Г	1
25.	A	—

22,5

## Теоретический тур

## Задача № 1

№	Вопрос	Ответ
1.	Как называется описанный материк? Как переводится его название?	<del>Австралия</del> ; В переводе с латыни Австралия - Южный
2.	Почему на материк наблюдаются максимальные среднегодовые температуры?	Потому что он практически полностью находится в Тропическом и субэкваториальном поясах
3.	Кто и когда из европейских мореплавателей впервые приплыл к его берегам? Представитель какой страны?	Абель Тасман, голландец
4.	Расстояние с севера на юг составляет	$28^{\circ}$ ; 3108 км
5.	Наибольшее расстояние с запада на восток составляет	$33^{\circ}$ ; 3333 км
6.	На карте изображены полуострова и острова, заливы и проливы	На контурной карте приложения
7.	1 тектоническая особенность	Этот материк движется быстрее всех
8.	2 природная особенность	Более 90% материка занимает пустыни; много животных/растений эндемиков
9.	3 политическая особенность	Бывшая колония Великобритании

0

## Задача № 2

№	Вопрос	Ответ
1.	О каком острове идет речь?	Ява 1
2.	В составе какого архипелага находится?	Большие Зондские острова
3.	Назовите его крупнейший город	Джакарта 1.
4.	Назовите три главных народов	_____
5.	Назовите бывшую европейскую метрополию.	ПОРТУГАЛИЯ
6.	В состав какого государства входит остров?	ИНДОНЕЗИЯ 1
7.	В какой природной зоне находится остров?	Влажные экваториальные леса 1.
8.	Что является традиционной основой хозяйства большинства жителей острова?	РЫБОЛОВСТВО
9.	Подпишите название острова, города и страны, в состав которой входит остров.	На контурной карте приложения 1,5

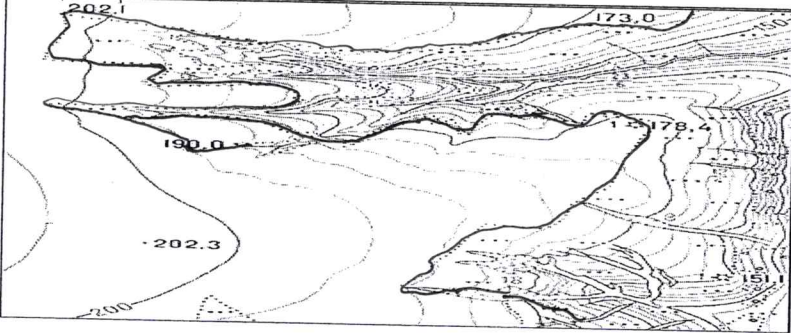
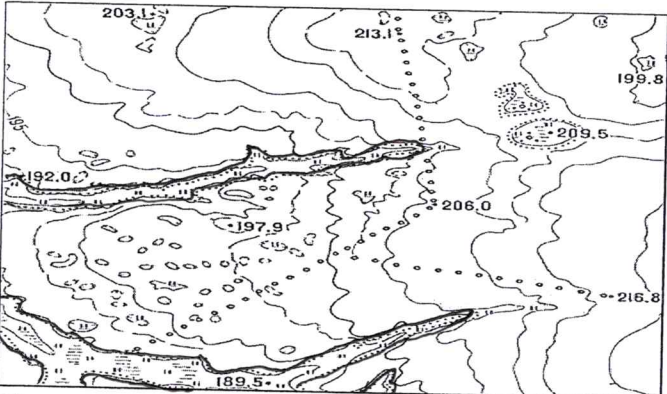
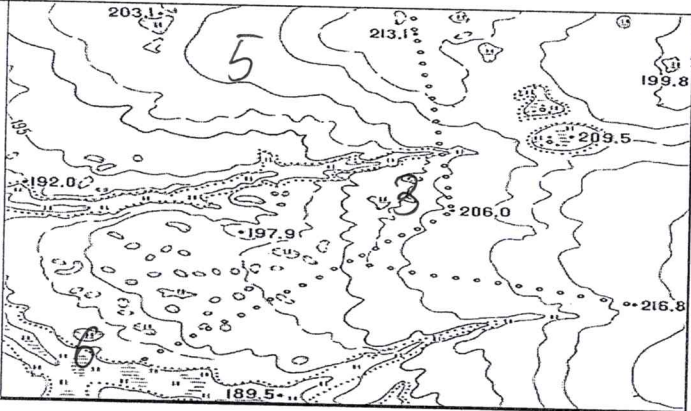
5,5

## Задача № 3

Космический снимок	Номер условного знака /название
А	2 1
	Шестиполосное шоссе
Б	4 1
	плантация
В	5 1
	кустарники
Г	7 1
	вокзал 1

5

Задача № 4

Ответ	
1	ЛЕСОСТЕПЬ
2	Общее Добыча полезных ископаемых
	
	
3	Процессы осушение болот, деление территории (искусственное)
	<hr/> <hr/> <hr/> <hr/> <hr/>
4	

25