

Код/шифр участника 9 - Г-9-16

**Всероссийская олимпиада школьников по географии  
муниципальный этап 2022-2023 учебный год  
9 класс**

**ЛИСТ ОТВЕТОВ**

Участник олимпиады	
Фамилия	
Имя	
Отчество	

№ задания	Баллы					Тесты
	1	2	3	4	5	
Количество баллов	3	3	5	3	5	21,5
Подпись члена жюри	<i>А.П. - И.И.</i>	<i>А.П. - И.И.</i>	<i>А.П. - И.И.</i>	<i>А.П. - И.И.</i>	<i>А.П. - И.И.</i>	<i>А.П. - И.И.</i>
Сумма баллов и подпись председателя	40,5	<i>[Подпись]</i>				

Код/шифр участника 9 - Г-9-16<sup>2</sup>

**Всероссийская олимпиада школьников по географии  
муниципальный этап 2022-2023 учебный год  
9 класс**

**Бланк ответов учащегося для заданий тестового тура**

№	Правильный ответ	
1.	A	1б.
2.	Б	1б
3.	B	0
4.	1-А 2-Б 3-Б 4-В	1б
5.	A	1б
6.	Г	1б.
7.	Б	0
8.	Б	1б.
9.	Б	1б
10.	B	1б.
11.	B	1б.
12.	A	1б.
13.	Б	1б
14.	Б	0
15.	A	0
16.	A	1б
17.	Б	1б
18.	Г	1б
19.	B	1б
20.	Б	0
21.	B	1б
22.	B	1б.
23.	Зернов против, Зерново море	0
24.	1-К 2- <del>В</del> <sup>А</sup> 3-А 4-Д 5-З 6- <del>Ж</del> 7-В 8-Г 9-Е 10-Б	3,5
25.	A	1б

21,5

## Теоретический тур

## Задача № 1

№	Вопрос	Ответ
1.	Как называется описанный материк? Как переводится его название?	Африка 1
2.	Почему на материк наблюдаются максимальные среднегодовые температуры?	Находится на экваторе
3.	Кто и когда из европейских мореплавателей впервые приплыл к его берегам? Представитель какой страны?	
4.	Расстояние с севера на юг составляет	73000 км
5.	Наибольшее расстояние с запада на восток составляет	5000 км
6.	На карте изображены полуострова и острова, заливы и проливы	На контурной карте приложения
7.	1 тектоническая особенность	Он находится на стыке литосферных плит 1
8.	2 природная особенность	Здесь есть саванны.
9.	3 политическая особенность	Множество государств - бывшие колонии, имеющие "ровные" границы 1

Код/шифр участника 9 - Г-9-76

## Задача № 2

№	Вопрос	Ответ
1.	О каком острове идет речь?	ЯВА 1
2.	В составе какого архипелага находится?	Индонезийский
3.	Назовите его крупнейший город	
4.	Назовите три главных народов	Яванцы,
5.	Назовите бывшую европейскую метрополию.	<del>Бразилия</del> Великобритания
6.	В состав какого государства входит остров?	Индонезия 1
7.	В какой природной зоне находится остров?	Тропическая
8.	Что является традиционной основой хозяйства большинства жителей острова?	Сельское хозяйство
9.	Подпишите название острова, города и страны, в состав которой входит остров.	На контурной карте приложения

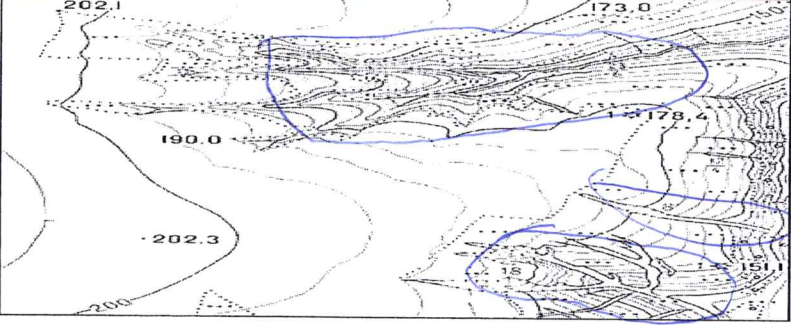
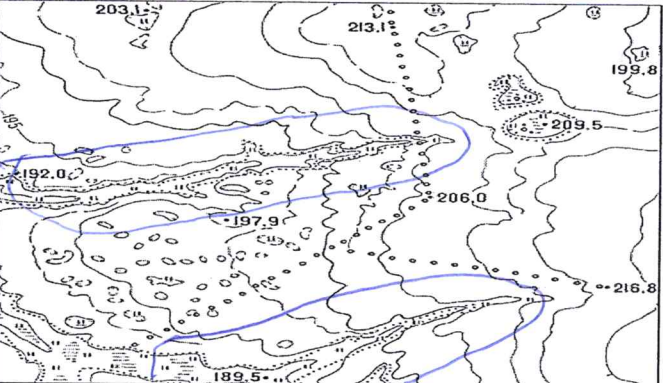
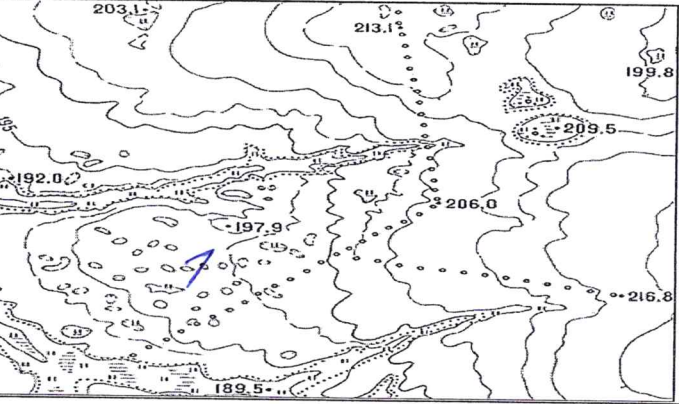
## Задача №3

Космический снимок	Номер условного знака /название
А	2 мастерраль 1
Б	4 мелководья 1
В	6 вырубки 1
Г	7 вокзал 1

$$\begin{array}{r} + 26 \\ + 1 \\ \hline 35 \end{array}$$

$$\begin{array}{r} 55 \end{array}$$

Задача № 4

	Ответ
1	<i>Стены</i> <span style="float: right; color: red;">1</span>
2	Общее <i>Поверхностный сток</i> <span style="float: right; color: red;">1</span>
	
	
3	Процессы <i>заблочивание, нахлестки провалов (ям)</i> <span style="float: right; color: red;">1</span> <hr/> <hr/> <hr/> <hr/> <hr/>
4	

~~35~~  
36

Код/шифр участника 9 - Г-9-76

## Задача № 5

№	Вопрос	Ответ	
1.	Назовите этот регион России	Калмыкия	1
2.	Как называется крупнейшая река, протекающая через территорию региона?	<del>Дон</del> Дон	
3.	Какой веры придерживаются местные жители?	Буддизм	1
4.	В каких еще субъектах России значительная доля населения её исповедует?	<del>Татария</del> Татария, Алтайский край	0,5
5.	О каком виде спорта идет речь?	Монгольские	1
6.	Как называется старейший самый южный российский город на берегу этого водного объекта?	Астрахань	

	Точка зрения 1	Точка зрения 2	
Вид водного объекта	Море	Озеро	1
Аргументы	<ul style="list-style-type: none"> <li>• Салёное</li> </ul>	<ul style="list-style-type: none"> <li>• Маленькое</li> </ul>	0,5
	<ul style="list-style-type: none"> <li>•</li> </ul>	<ul style="list-style-type: none"> <li>• Не имеет соприкосновения с океаном</li> </ul>	

# ФИЗИЧЕСКАЯ КАРТА МИРА

