

Код/шифр участника 7 - 14

**Всероссийская олимпиада школьников по географии
муниципальный этап 2022-2023 учебный год
7 класс**

ЛИСТ ОТВЕТОВ

Участник олимпиады	
Фамилия	
Имя	
Отчество	

№ задания	Баллы				Тесты
	1	2	3	4	
Количество баллов	7	8,5	5	3	12
Подпись члена жюри	<i>список</i>	<i>список</i>	<i>список</i>	<i>список</i>	<i>список</i>
Сумма баллов и подпись председателя	35,5	<i>Да</i>			

Код/шифр участника 7-14

Всероссийская олимпиада школьников по географии
муниципальный этап 2022-2023 учебный год
7 класс

Бланк ответов учащегося для заданий тестового тура

№ вопроса	Правильный ответ (элементы ответа)
1.	Г —
2.	В +
3.	Г —
4.	В —
5.	А —
6.	В +
7.	Г —
8.	Б +
9.	Г —
10.	В, Г —
11.	Б +
12.	В +
13.	Г +
14.	А +
15.	Г —
16.	Б +
17.	Б +
18.	В +
19.	В +
20.	Г +

12

Теоретический тур

Задача № 1

№	Вопрос	Ответ
1.	Как называется описанный материк? Как переводится его название?	Австралия (Южная земля) 2
2.	Почему на материке меньше всего поверхностных вод?	Причиной данного факта является засушливый климат материка и — незначительная площадь материка.
3.	Кто и когда из европейских мореплавателей впервые приплыл к его берегам? Представитель какой страны?	Представитель Соединённого королевства, Джеймс Кук, впервые прибыл к берегам материка в XVIII в. —
4.	Расстояние с севера на юг составляет	27° 1
5.	Расстояние с запада на восток составляет	38° 1
6.	На карте отметить полуострова, заливы проливы	На контурной карте 0
7.	1 тектоническая особенность	На территории материка нет действующих вулканов. 1
8.	2 природная особенность	Уникальные виды организмов — эвкалипт, утконос, коала, кенгуру. 1
9.	3 политическая особенность	Территория всего материка занята одним гос-вом: Австралийским союзом. 1

7

Код/шифр участника 7- 14

Задача № 2

№	Вопрос	Ответ	
1.	О каком острове идет речь?	Остров Ява	1
2.	В составе какого архипелага находится?	Малайский архипелаг	1
3.	Назовите его крупнейший город	Джакарта	1
4.	Назовите три главных народов	Яванцы	0,5
5.	Назовите бывшую европейскую метрополию.	Нидерланды (Ост-Индская компания)	0,5
6.	В состав какого государства входит остров?	Индонезия	1
7.	В какой природной зоне находится остров?	Вечнозеленые экваториальные леса	1
8.	Что является традиционной основой хозяйства большинства жителей острова?	Земледелие, в частности, выращивание риса и чая.	1
9.	Подпишите название острова, города и страны, в состав которой входит остров.	На контурной карте	1,5

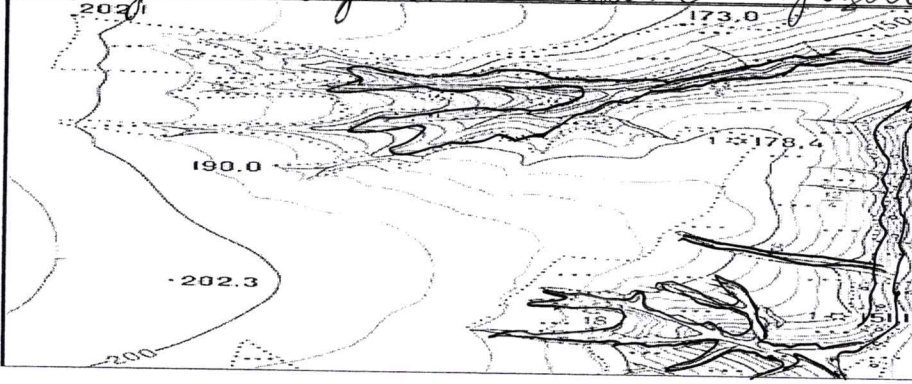
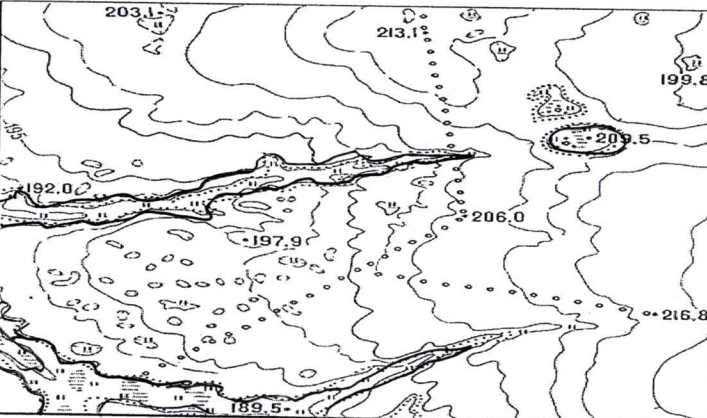
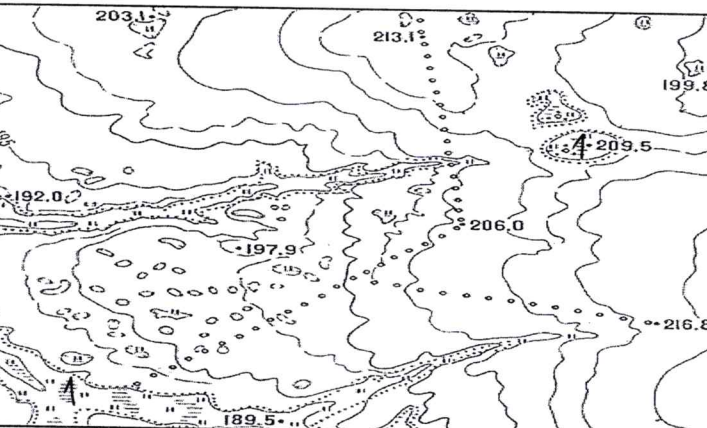
8,5

Задача № 3

Космический снимок	Номер условного знака /название	
А	2/автомобильное шоссе	+
Б	3/вспаханное поле	-
В	5/срубленный лес	+
Г	7/железнодорожный вокзал	+

50

Задача № 4

	Ответ
1	равнини
2	Общее для обоих участков явление — процесс эрозии.
	
	
3	Процессы, характерные для участка 2б, но не для участка 2а + заболочивание местности.
	<hr/> <hr/> <hr/>
4	
	<p>Условные знаки: 1 - болотистая местность</p>

1

15

15

35

ФИЗИЧЕСКАЯ КАРТА МИРА

